

Név:
E-mail cím:

A felén már túl is vagy, most következzenek az...

### **Esszéfeladatok**

Mielőtt neki kezdesz, figyelmesen tanulmányozd át a „játékszabályokat”:

- A feladatok megoldási sorrendje tetszőleges.
- A feladatok megoldásához a Történelmi atlasz és a Helyesírási kézikönyvtár használható
- A feladatok megoldását tollal készítsd. Ha valamilyen megoldást vagy megoldásrészt áthúzol, akkor az nem értékelhető!
- Az egyes feladatokra az ott feltüntetett pontszámnál több nem kapható.
- Minden feladatot új A/4-es lapon kezdj!
- A megoldásokat tartalmazó lapok mellett ezt a fedlapot kell beadnod. Ügyelj arra, hogy mindegyik lapon jól olvashatóan rajta legyen a neved.

#### **Az alábbi szabályok alapján kell esszéket választanod:**

Kidolgozandó **kettő rövid és kettő hosszú** feladat, melyek közül **mindegyik más-más korszakra** vonatkozik! A megoldott feladatok között **legalább kettőnek a magyar, legalább egynek az egyetemes történelemre** kell vonatkoznia!

Tanulmányozd figyelmesen a feladatokat, majd karikázd be az alábbi táblázatban a választott feladatok sorszámát!

	Korszakok, témák		Az esszé típusa	
			Rövid (7 pont)	Hosszú (16 pont)
Egyetemes történelem	1	Szórakozás az ókori Rómában	1.	
	2	Angol és francia abszolutizmus		2.
	3	Nagy földrajzi felfedezések	3.	
	4	Angol polgári forradalom		4.
Magyar történelem	5	Városfejlődés a középkori Magyarországon	5.	
	6	Szent László és Könyves Kálmán törvényei		6.
	7	Mohács	7.	
	8	Zsigmond és Mátyás külpolitikája		8.
	9	Agrárkonjunktúra a XIX. században	9.	
	10	Budapest világvárossá fejlődése		10.

**Ellenőrizd választásod helyességét, mert kizárólag a helyesen kiválasztott feladatok értékelhetőek! A kettősvonallal elválasztott egységekben csak egy jelölés szerepelhet.**

A „rövid” kifejtés kb. **12-14** soros, a hosszú pedig kb. **30-40** soros válaszokat igényel.


<b>A választott esszék sorszáma:</b>				
<b>Pontszám (tanár tölti ki)</b>				

**A válaszok elkészítése során fogalmazvány (piszkozat) készíthető!**

**Ellenőrizd választásod helyességét az alábbi táblázat kitöltésével!**

<b>A feladatválasztás szempontjai</b>	<b>Igen</b>
Négy feladatot választottál?	
Legalább két magyar történelmi feladatot választottál?	
Legalább egy egyetemes történelmi feladatot választottál?	
Két rövid és két hosszú feladatot választottál?	
Mind a négy kiválasztott feladata különböző korszakból való? (A táblázatban a korszakokat a kettősvonal választja el.)	
Egyértelműen jelölted feladatválasztásaidat?	

**1. Az alábbi feladat a római kultúrához kapcsolódik. A „kenyeret és cirkuszt” politika hogyan jelent meg a római köztársaságban, majd később a császárkorban? (7 pont)**



„A gladiátorviadatok jóval az első cirkuszi játékok után, i.e. 264-ben jelentek meg Rómában, akkor még mint egy előkelő arisztokrata gyászszerartás elemei. Ebben az évben Junisu Brutusnak, a nagy Brutus leszármazottjának fiai elhatározták, hogy atyjuk emlékére, egy nem római eredetű szokás szerint, három pár rabszolga részvételével viadalt rendeznek. Bár ezek az első gladiátorok nevüket a bustumról, a sírkamrát vagy halotti, máglyát jelentő szóról vették. [...] Az első küzdelem, melyről fõntebb szõltunk, a Fõrum boariumon, a marhavásártéren zajlott le, és hamar kialakult a szokás, hogy az ilyenfajta eseményeknek a Fõrumon legyen a színtere. [...] A közõnség hajadonfõtt, állva nézte végig [...], tudták jól, hogy az elõttük lejátszódó szerartás szent dolog, nem pedig szõrakozás.


A szenátus állította össze a vallási ünnepek keretében rendezett látványosságok részletes menetrendjét. [...] A szenátus hatalma egyedül a gladiátorviadatokra nem terjedt ki. Csak i. sz. 105-ben engedélyezték felvételüket a hivatalos látványosságok közé, egésze addig a gladiátorviadokat csak magánosak rendezhette. A kezdeményezõkészségnek e téren semmi nem vetett gátat, a II. századi Rómában munusok [a gladiátorviadatok] az egész várost érdeklõdõ események, könnyû módja volt a tömegek megnyerésének.  
*/Augustus önéletrajzából /*

„... ez a nép már rég túltette magát minden dolgon, s akitõl rég vesszõs bárd, sereg és hatalom függött, ma egészen meglapul, és csak e két dolgot kívánja szorongva: cirkuszt és kenyeret.”  
*/Juvenalis, római satírákõltõ/*

**2. A feladat az angol és a francia abszolutizmusról szól. Mutasd be, miként változott az állam és az egyház viszonya a XVI-XVII. századi Angliában és Franciaországban. (16 pont)**



*VIII. Henrik és hat felesége*



*Hugenotta kereszt*



Morus Tamás lefejezése



Korabeli ábrázolás 1572 augusztus 24. éjszakájáról

„A parlamentnek hatalma van arra, hogy a királyt megválassza, és trónra ültesse. Ezt minden angolnak engedelmesen el kell fogadnia. Azonban a királyságban nincs az a hatalom, amely a királyt Anglia egyházának fejévé tehetné meg. Az egyház feje lelki hatalom, és vallási. Lelki kérdésekben való döntésekben nem illetékes a világi hatóság.”

/ Morus Tamás kihallgatásakor mondott szavai, 1534 /

„Ha pedig Henrik király és az ő segítői és követői [...] nem engedelmeskednek intelmeinknek és kívánságainknak, akkor mi [...] a nagy kiközösítés teljes büntetése alá helyezzük.”

/ III. Pál pápa bullája VIII. Henrik kiközösítéséről, 1535/

„Párizs megér egy misét!”

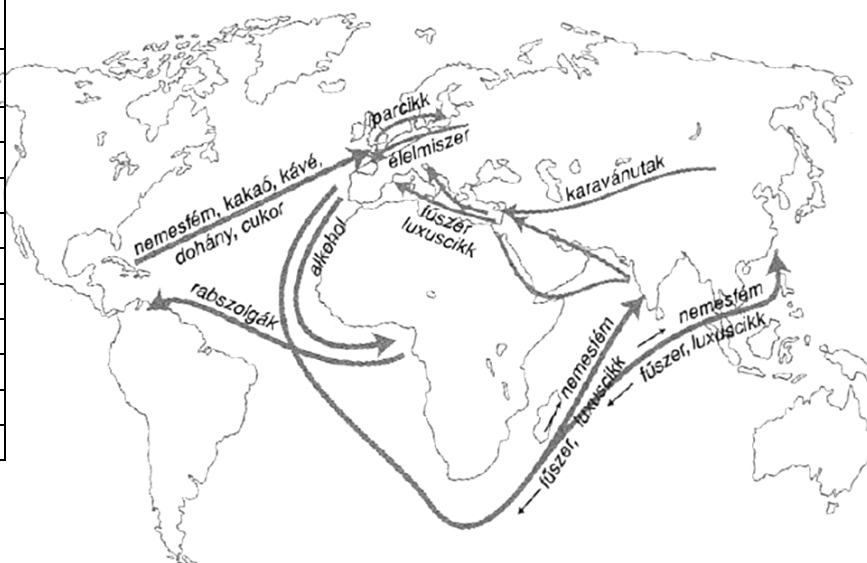
/ IV. Henriknek tulajdonított mondat 1593-ból/

„Én vagyok a világon a legszomorúbb és legvigasztalanabb ember [...] mert ez az átkozott ediktum minden képzeletet felülmúl [...], hiszen mindenkinek lelkiismereti szabadságot biztosít, ami a legszörnyűbb dolog a világon.”

/ VIII. Kelemen pápa, 1600 körül /

### 3. Az esszé a nagy földrajzi felfedezésekkel kapcsolatos. Mi a kontinentális munkamegosztás? Hasonlítsd össze Nyugat-Európa és Kelet-Európa fejlődésére tett hatását! Használhatod az atlaszodat is! (7pont)

Spanyolországi nemesfém-behozatal		
Év	Tonna (ezüst)	Tonna (arany)
1503–1510	-	5,0
1511–1520	-	9,2
1521–1530	0,2	4,9
1531–1540	86,2	14,5
1541–1550	177,6	25,0
1551–1560	303,1	42,6
1561–1570	942,9	11,5
1571–1580	1118,6	9,4
1581–1590	2103,0	12,1
1591–1600	2707,6	19,5

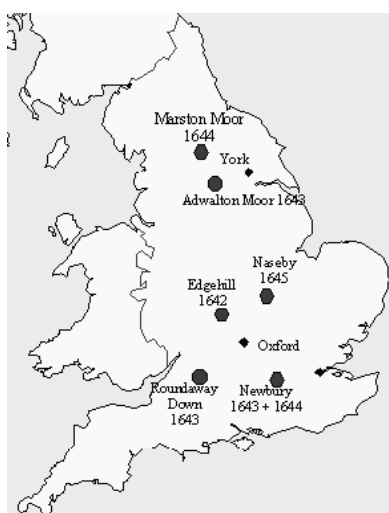


**4. A források és saját ismereteid alapján mutasd be Cromwell felemelkedését, majd Protektorátusát az angol polgári forradalomban! (16 pont)**

<b>Áremelkedés Hamburgban 1511/20 és 1561/70 között %-ban</b>	
Gabona	274
Többi élelmiszer	161
Iparcikk	118

„Bízzál Istenben, és tartsd szárazon a puskaport!”  
/ Oliver Cromwell/

„A kereskedelmi flotta növelése és a nemzeti tengerhajózás ösztönzése érdekében ... a jelen parlament és az ő hatalma által elrendeltetik, hogy 1651. december havának 1-jétől és ezt a dátumot követően, a jövőben



semmiféle termék vagy áru, amely Ázsiában, Afrikában és Amerikában, vagy pedig ezek részeiben, vagy a hozzájuk tartozó szigeteken termett vagy állítottatott elő ... nem hozható vagy szállítható be az Angol Köztársaságba vagy Írországba, vagy más országokba, szigetekre, ültetvényekre és területekre, melyek e köztársasághoz tartoznak vagy birtokait képezik, semmiféle más [nem angol] hajón vagy [...] vízi járműveken ..., [csak] amelyek tényleg és valóban e köztársaság vagy



**New Model Army –  
– vashordájúak**

gyarmatai polgárainak mint tulajdonosoknak és jogos birtoklóknak a tulajdonát képezik, s amelyeknek a kapitánya és matrózai szintén ezen köztársaság polgárai lesznek; mind ama áru elkobzásának és elvesztésének terhe alatt, amit jelen törvény ellenére fognak behozni, valamint a hajó elkobzásának a terhe alatt...”

/ Navigation Act – hajózási törvény – 1651/

**5. A feladat a városfejlődés a középkori Magyarországon. Mivel segítették az akkor uralkodó királyok a városok fejlődését? (7 pont)**

„Ezenfelül, ha azoknak a városoknak a polgárai, melyeket újonnan létesítettünk és amelyeket más városok szabadságaival láttunk el, bírái és esküdtjeik ítéletében és határozatában megnyugodni nem akarnának, megannyian ahhoz a városhoz, amelynek szabadságaival élnek vagy tárnokmesterünkhöz fellebbezhetnek.”

/Az 1405. évi városi dekrétumokból /

„A város fejlődését elősegítette, hogy keresztül haladtak rajta a Szentföldre vezető zarándokutak és fontos kereskedelmi útvonalak, valamint itt tartották a királyi heti piacokat. A XII. században a centrumhoz csatlakoztak a külvárosok is. A kor a nagy építkezések ideje volt Székesfehérvárott. A városba települő szerzetesek, valamint a polgárság is pompás templomokkal, rendházakkal, illetve lakóépületekkel gazdagították Alba Regiát. A XIV. században a város várfallal lett körbevonva.”

/Székesfehérvár történetének leírásából részlet /

„Városnak nevezzük mintegy a polgárok egyetemességét, mivel itt a népeknek nagy száma gyűlt össze. A város pedig házaknak és utcáknak a szükséges falakkal és erődítésekkel körülkerített sokasága, mely a jó és tisztességes életet szolgáló kiváltságokkal van ellátva.”

*/ Werbőczy István: 1514-ben elkészült Hármaskönyvéből/*

**6. A következő feladat Szent László és Könyves Kálmán törvényeire vonatkozik. A források segítségével írd törvénykezésük eltéréseiről és annak okairól. (16 pont)**

„1. Mindenekelőtt elhatároztuk, hogy ha főembereknek bármilyen rokonát lopás bűnében találják egy tyúk értékén túl, semmiképpen se rejthesse el vagy védhesse meg őt közülük senki.

4. Ha ezután valakit az egész falu tolvajnak kiált, istenítélettel vizsgálják meg. Ha ennek folytán ártatlannak bizonyul, a falu csupán egy penzát fizessen a papnak. Ha pedig bűnösnek találják, minden vagyonát foglalják le a király részére, amiből negyedrészt a falubelieknek adjanak.

6. Ha a bíró a rabszolga orrát nem vágja le, vagy szabadot nem akasztja fel, vesszen mindene, fiain, és lányain kívül, s magát adják el.

Ha pedig ártatlant akaszt fel, száztíz pénzt fizessen, és a felakasztott személy minden vagyonát adja vissza.”

*/ László II. törvénykönyvéből/*

„ 11. Ha valaki vasárnapon vagy a nagyobb ünnepeken nem megy az ő kerületének egyházába, verésekkel javítsák meg.

22. Akik a pogány szokás szerint kutak mellett áldoznak, vagy fákhöz, forrásokhoz és könyvekhez ajándékokat visznek, bűnükért egy ökörrel fizessenek.”

*/ László I. törvénykönyvéből/*

„42. Aki kóborlót fogad fel a király engedelmé nélkül, ötvenöt pénzt fizessen; és ha a felfogadott valami lopást követ el otltétében, ura próbával tisztítsa magát a vétekből; a kezet pedig jelentse meg, az pedig ha büntetlennek bizonyul, azt a bírságot fizesse, amit a felfogadó; és ha nincs miből fizetnie, vesszék a szabadsága.

54. Ha valaki négylábú állatot vagy ennek megfelelő dolgot, avagy húsz dénár értékű ruhát lop, mint tolvajt ítéljék el.

73. A keresztények temetkezési helyei csak templomok térségében lehessenek.”

*/ Kálmán I. törvénykönyvéből /*

„7. Hogy senki se tartson meg semmit a pogány szokásokból; aki pedig ezt teszi, ha az öregebbek közül való, negyven napig szigorúan vezekeljen, ha pedig a fiatalabbak közül, hét napon át vezekeljen verésekkel”

*/ Kálmán II. törvénykönyvéből /*

**7. Mutasd be a források és saját ismereteid alapján milyen események vezettek a mohácsi csata elvesztéséhez! (7 pont)**

Parancsnokok	
II. Lajos magyar király, Tomori Pál Kalocsai érsek	I. (Nagy) Szulejmán, Paragil Ibrahim nagyvezír
Szembenálló erők	
Kb. 24 800 magyar horvát hadtestek, spanyolok, németek, csehek, lengyelek, pápai	Kb. 60 000 fő 160 ágyú

zsoldosok 85 ágyú	
Veszteségek	
Kb. 16-20 000 halott köztük 16 zászlósúr és 5 püspök, továbbá meghal II. Lajos és Tomori Pál	Kb. 10.000 halott

<b>Kronológia</b>
1490: Mátyás halála
1512-1520: I Szelim uralkodása, hatalmas keleti területek meghódítója
1516: II. Lajos kerül trónra

1520: I. Nagy Szulejmán kerül hatalomra
1521: Nándorfehérvár eleste
1526: Mohácsnál csatavesztés, Buda kifosztása, hatalmi harcok megkezdése a magyar trónért

„A törökkel folytatott két évszázados párharc során a magyarság számára egyre kedvezőtlenebbé váltak az erőviszonyok. A XVI. század elejére tovább romlott a helyzet, a gazdag közel-keleti tartományok megszerzése megkésztette az Oszmán birodalom területét, népességét és bevételeit. Ez a hatalmas erő, amit a despotikus török rendszer mozgósítani tudott, felülmúlta bármelyik európai nagyhatalom erejét. Ezzel párhuzamosan Magyarországon a királyi hatalom meggyengült. A királyi jövedelem nem érte el a végvárak fenntartásához elengedhetetlenül szükséges 200.000 aranyforintot, így a várak állapota folyamatosan romlott, s a központ nem rendelkezett a nagyobb ostromok idején szükséges felmentő hadsereggel”

/ Tankönyvi szöveg /

## 8. Hasonlítsd össze a források és saját ismereteid alapján Luxemburgi Zsigmond és Hunyadi Mátyás külpolitikáját! (16 pont)

„A szkizma (egyházszakadás) azzal vette kezdetét, hogy az Avignonból Rómába visszaköltözött pápa utóda megtagadta a visszatérést Avignonba. A francia főpapok erre ellenpápát választottak, Zsigmond viszont mint római király azt a harmadik pápát tekintette bizalmasának, aki Pisában néhány bíboros zsinati választása alapján lett egyházfő, s akinek megválasztása után mint a római, mind az avignoni pápának le kellett volna mondania. A lemondások nem történtek meg, ezért Zsigmond a pisai pápát vette rá, hogy zsinatot hívjon össze Konstanz városában.”

/ Tankönyvi szöveg /

„A konstanzi zsinat új pápát választott, ezzel az egyház egysége helyreállt. Az egyházi földreform azonban a konzervatív főpapok ellenállásán megbukott [...] Husz János mártírhalálának híre felkorbácsolta az indulatokat Csehországban, a lakosság zöme huszitává vált, s ilyen körülmények között szó sem lehetett arról, hogy Zsigmond elfogadja a bátyja halálával (1419) megüresedett cseh trónt. Arra azonban számíthatott, hogy a korántsem egységes huszita szövetség megosztásával előbb-utóbb eléri célját.”

/ Tankönyvi szöveg /

„Magyarország megnövekedett erejét Mátyás nagyszabású külpolitikai terveinek a végrehajtására használta fel. Célja egy erős dunai királyság megteremtése volt. Csehország és az osztrák örökös tartományok megszerzését, azután pedig a német-római császári korona elnyerését tervezte. A világpolitikai erőviszonyokat úgy ítélte meg, hogy csak ilyen méretű közép-európai erőösszpontosítás után nyílhatna lehetőség a török balkáni hatalmának megtörésére.”

/ Unger Mátyás-Szabolcs Ottó: Magyarország története című műve nyomán /



**9. A források segítségével mutasd be az agrárkonjunktúra következményeit a XIX. századi Magyarországon! (7 pont)**

Év	Ezüstforintban	100 ezüstforintnak megfelelő papírpénz
1800	2,22	115
1802	4,33	120
1804	4,10	135
1806	6,50	175
1808	7,30	222
1809	8,50	315
1810	18,50	552
1811	23,40	833

„Nem volt olyan szemetes gabona, mely gazdára ne talált volna, jó áron. A bevételeket azonban csak kevés birtokos költötte gazdaságának korszerűsítésére, inkább fényűzésre fordította.”

/Tankönyvi szöveg/

**Egy köből búza ára a pesti piacon**

„A Habsburg kormányzatnak – a többi hadviselő félhez hasonlóan – nem volt fedezete az évtizedes háború finanszírozására. A korábban is jelentős államadósság a többszörösére nőtt. A hiányt bankjegykibocsátással oldották meg...”

/Tankönyvi szöveg/



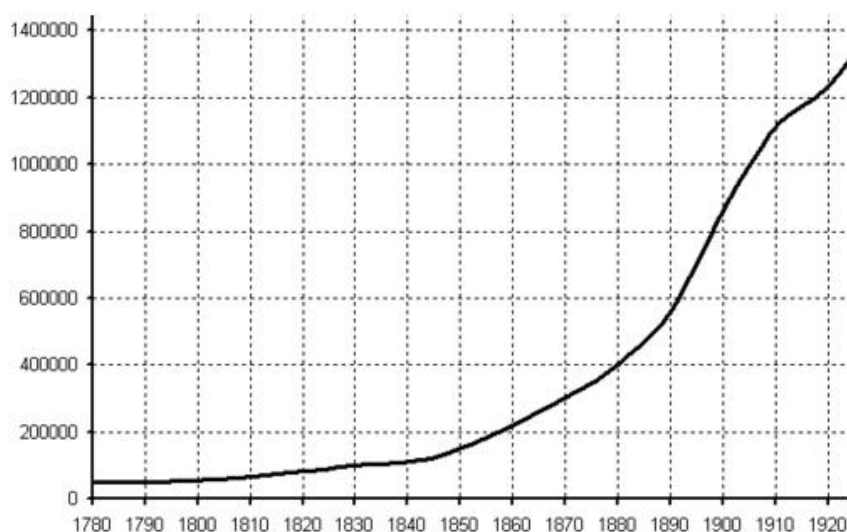
**A keszthelyi Festetics kastély**



**1816-ban kibocsátott bankók**



**10. A források és saját ismereteid alapján mutasd be hogyan fejlődött Budapest világvárossá a századfordulóra! (16 pont)**



*Budapest népességének alakulása 1780-1920 között*



*Villamosok a korabeli Erzsébet hídon*



*A Millenniumi ünnepre épített Vajdahunyad vára*



*Európa első földalatti vasútja*

„A bécsi politikának azonban nem sikerült tartósan csökkenteni Pest befolyását. A város tovább gyarapodott és növekedett. A 1867-ben, a kiegyezés után, amikor I. Ferenc József magyar király is lett Pesten hozzákezdtek a nagy urbanizációs feladatok végrehajtásához. 1872-ben pedig az országgyűlés megszavazta az egyesített Budapestről szóló törvénycikkelyt. Az új városi választások után 1873. november 17-én, az ünnepi közgyűlést követően az új testületek átvették a város irányítását. A város első főpolgármestere Ráth Károly lett, polgármesterré pedig Kammermayer Károlyt választották. Ebben az időben került a város fejlesztését irányító Fővárosi Közmunkák Tanácsának élére báró Podmaniczky Frigyes. Vezetése alatt a tanács olyan programot hozott létre, amely felölelte a Duna budapesti szakaszának szabályozását, rakpartok, közraktárak, hidak, bulvárok, egy központi pályaudvar és egy vasúti híd építését, valamint a főbb útvonalak szabályozását. A városrendezésre 1870-ben írtak ki pályázatot, amit Lechner Lajos építész nyert meg. Őt a főváros középítési igazgatójának nevezték ki.

Ettől kezdve állandó építkezési területté vált a város. Nekifogtak a pesti utcák tömeges kiszélesítésének, meghosszabbításának, rendezésének. 1871-ben elkezdték építeni az Andrássy utat, és még ugyanebben az évben törvény született a Nagykörút építéséről. Elkészült a második Duna-híd, a Margit-híd is.”

*/ Budapest Portál – Budapest története /*