

# **TÖRTÉNELEM**

## **KÖZÉPSZINTŰ PRÓBAÉRETTSÉGI VIZSGA**

**2013. Január 19.**

Az írásbeli vizsga időtartama: 180 perc

Név	
Tanárok neve	
Pontszám	

**STUDIUM GENERALE  
TÖRTÉNELEM SZEKCIÓ**



**Kedves diákok!**

Az alábbiakban a középszintű érettségéhez teljesen hasonló feladatsort kaptok.

- A feladatsor megoldására 180 perc áll majd a rendelkezésetekre, amely mind a tesztkérdéseket, mind az esszéket tartalmazza. Így teljesen szabadon oszthatjátok be az időtöket.
- A feladatsor megoldásához történelmi atlasz és helyesírási szabályzat vehető igénybe. A teszteknel röviden, értelemszerűen, csak a feltett kérdésre válaszoljatok.
- Az esszéknél kicsit bonyolultabb a helyzet, mivel van választási lehetőségek. A választás szabályait az esszéknél ismertetjük, ezeket mindenképp figyelmesen olvasd majd el, és ha valami nem világos inkább kérdezz meg egy tanárt!
- Csak a tintával, olvashatóan írt megoldásokat fogadjuk el, ezért ha nem vagy a szépírás bajnoka, akkor erre különösen ügyelj!
- Ne felejtsd el a saját nevedet minden részre és beadott lapra felírni!
- Ha SG-s diák vagy, ne felejtsd el a töri tanáraid nevét minden részre és a beadott lapokra felírni!
- Ha a fentiekben túl bármi kérdésed van – természetesen nem a megoldásokról – akkor nyugodtan bármelyik tanárt megkérdezheted.

**Sok sikert kívánunk a feladatok megoldásához!**



**Elért pontszámok:**

	1.	2.	3.	4.	5.	6.	7.	8.	9.	10.	11.	teszt	esszé	Össz.
<b>Max</b>	3	4	5	3	5	4	4	4	4	4	5	45	45	90
<b>Elért</b>														



1. A következő feladat az ókori görög kultúrához kapcsolódik. A képeken különböző görög isteneket, vagy istennőket láthatsz. Kik ők és minek az istenei? (Helyes soronként 1 pont, összesen 3 pont)



A)



B)



C)

Isten neve	A kép betűjele	Minek az istene?
Hádész		
		bölcsesség, művészetek
	C)	

3 pont

2. A feladat a köztársaság kori Rómához kapcsolódik. Saját ismereteid alapján tedd időrendi sorrendbe az alábbi eseményeket, és válaszolj a kérdésre! (4 pont)

	Esemény	Sorszám
A)	Julius Caesar provinciává teszi Galliát	
B)	Az első triumvirátus megalakulása	
C)	Julius Caesar meggyilkolása	
D)	Sulla diktatúrájának kezdete	
E)	Caesar győzelme Pompeius felett Pharszalosznál	
F)	Spartacus – féle rabszolgafelkelés kitörése	

3 pont

- a.) Sorolj fel három olyan a köztársasághoz kapcsolható tisztséget, melyet Julius Caesar élete során viselt!

1 pont

3. Az alábbi feladat Géza fejedelemmel és Szent Istvánnal kapcsolatos. Töltsd ki a táblázatot az ismereteid alapján! Segítségképpen a táblázat alatt megtalálod a helyes megoldásokat összekeverve. A megoldások között helytelen válaszok is szerepelnek. (Helyes soronként 1, összesen 5 pont)

	Géza	Szent István
Fiának neve		
Uralkodásának kezdete		
Feleségének neve		
Halálának dátuma		
A keresztény egyházat érintő tevékenysége		

Vazul, 997, kereszténység felvétele, Imre, Réka, Sarolt, 1038, Vajk, Gizella, 1031, 997/1000, tized bevezetése, 972, 973, kilenced bevezetése

5 pont

4. Az alábbi szöveg a román és a gót stílussal foglalkozik. A kipontozott helyekre illeszd be a felsorolt szavak közül az odaillőt! A felsorolásban helytelen válaszok is szerepelnek! (Elemenként 0,5 pont, összesen 3 pont)

„A X.-XI. században bontakozott ki Nyugat- és Közép-Európában a román stílus. Az épületeket általában tömör formák, falak és ..... , áttekinthető szerkezet jellemezte. [...] A födémek terhét a/az ..... oldalfalak és oszlopok viselték, ezért az ablakok, ajtók is ..... . [...] A XII. század végétől új stílus jelent meg: a gótika. Stílusjegyeit alapvető szerkezeti újításoknak köszönhetette. A keresztboltozatos, bordás födémek terhét a falakról az oszlopokra, tárnokok segítségével a támpillérekre hárították. Ezáltal a falak ..... , magasakká, s áttörhetőkké váltak. A nagy ablakfelületeket színes ólomüvegekkel fedték. [...] A gótika jellegzetes formái a/az ..... boltozatok és ablakok, rózsablatok, a/az ..... , gazdagon csipkézett, karcsú tornyok.”

/ Tankönyvi szöveg/

**vastagokká, egyszerű, bonyolult, nagyméretűek, alacsony, vaskos, vékonyakká, vékony, csúcsíves, félköríves, magas, kisméretűek**

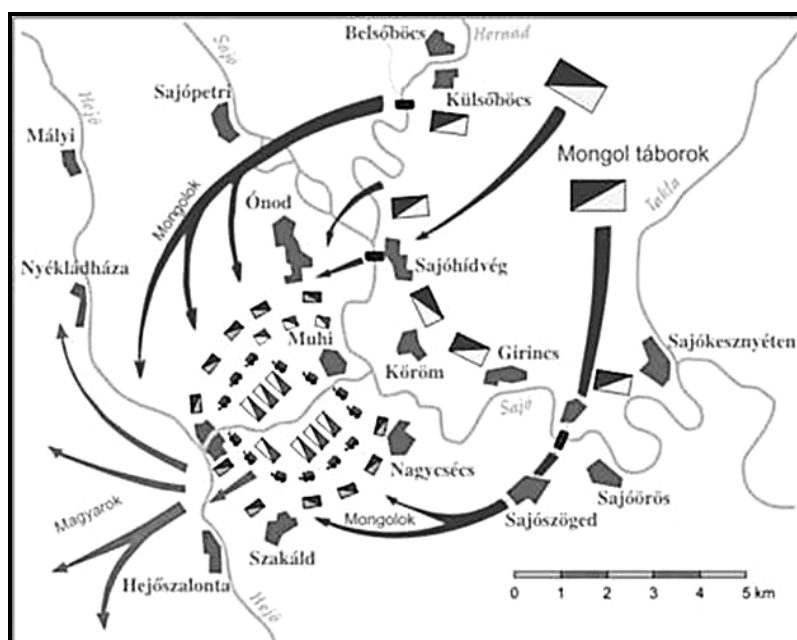
3 pont



**5. Az alábbi feladat a tatárjárással foglalkozik. Saját tudásod és a források alapján válaszolj a kérdésekre! (5 pont)**

„[...] úgy történt, hogy Kötöny, [...] ünnepélyes követséget küldött, ha őt hajlandó befogadni és szabadságban megtartani, akkor kész rá, hogy magát és övéit neki alávesse, és rokonaival, testvéreivel és barátaival meg minden vagyonával és ingó javaival együtt Magyarországra bevonuljon, és őt a katolikus hitben kövesse.”

*/Rogerius Sivalmas ének című munkájából/*



A muhi csata

**a.)** Ki hozott hírt a tatárjárásról?

..... 1 pont

**b.)** Melyik népcsoport kért bebocsátást a tatárok elől, és ki volt ekkor a magyar király?

..... 2 pont

**c.)** Ki volt a tatár sereg vezetője?

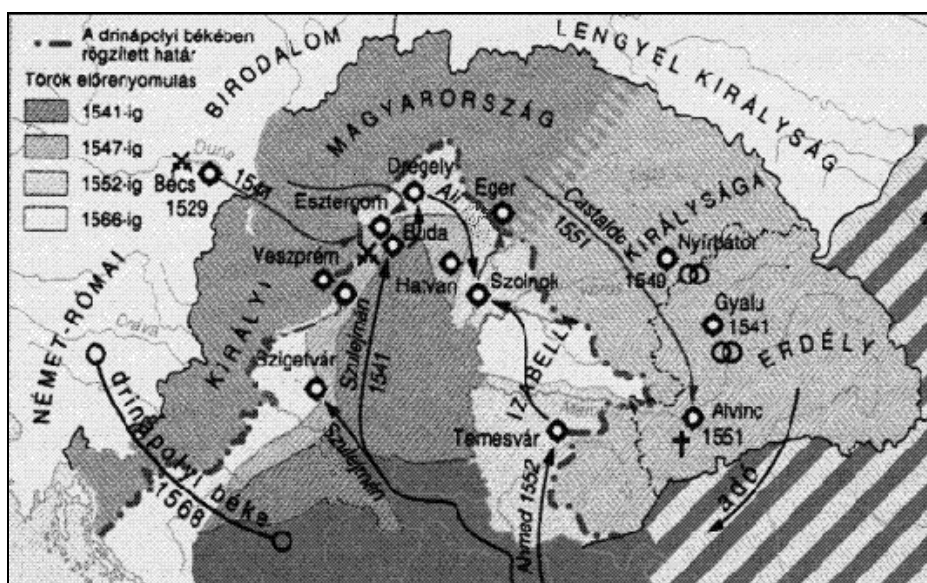
..... 1 pont

**d.)** Mikor volt a muhi csata – napra pontosan – és mi lett a végkimenetele?



1 pont

6. Az alábbi kérdések a végvári küzdelmekkel kapcsolatosak. A térkép és ismereteid alapján válaszolj a kérdésekre! (4 pont)



Magyar végvári küzdelmek a XVI. században

- a.) Nevezd meg legalább 3 fontos végvárat a térkép alapján!

1 pont

- b.) Nevezd meg a török támadások legfőbb célpontját!

1 pont

- c.) Melyik csatában, és mikor halt meg I. Szulejmán szultán?

1 pont

- d.) Hány évig volt Buda török kézen?

1 pont

**7. Az alábbi feladat Erdély vallási berendezkedésével kapcsolatos. A források és saját tudásod alapján válaszolj a megadott kérdésekre! (4 pont)**

„János Zsigmond a hit szempontjából páratlanul toleráns uralkodónak bizonyult, amit az 1568. évi tordai országgyűlés törvényei mutattak meg igazán [...]. A János Zsigmond vezette országgyűlés négy bevett vallást állapított meg [...] ezzel lényegében definiálta a magyar történelmi egyházakat, és rendezte a templomhasználat körüli vitát is. Túlzás nélkül állíthatjuk, hogy a tordai cikkelyek egyetemes jelentőségűek voltak az egyháztörténet szempontjából [...].”

*/ Tarján M. Tamás: II. János magyar király születése/*

**a.)** Miről hoztak rendeletet az 1568-as tordai országgyűlés alakalmával?

..... 

1 pont	
--------	--

**b.)** Sorold fel a négy Erdélyben „bevett vallás”-t!

..... 

1 pont	
--------	--

**c.)** A reformáció mely irányzata volt Európában is egyedülálló módon elfogadott Erdélyben? Mi hitük alapelve?

..... 

2 pont	
--------	--

**8. Az alábbi feladat XIV. Lajos korára vonatkozik. A forrás és ismereteid alapján válaszolj a kérdésekre! (4 pont)**

„Mindent meg kell tenni, hogy bővüljön és javuljon a termelés. [...] Nem nehéz megteremteni ezt a manufaktúrát, úgyszintén növelni a gépek számát is [...], mivel ezeket az anyagfajtákat már gyártják s ezek nagy keresletnek örvendenek; a 30% [vám], ami a flandriai manufaktúrák készítményeire van kivetve, lehetetlenné teszi ezek behozatalát - így igen könnyű lesz saját készítményeink terjesztése”

*/ Részlet Colbert egyik utasításából/*

**a.)** Mi volt a szerepe a magas vámoknak?

..... 

1 pont	
--------	--

**b.)** Mi az a manufaktúra? Miben különbözik alapvetően a céhes termeléstől?

..... 

2 pont	
--------	--

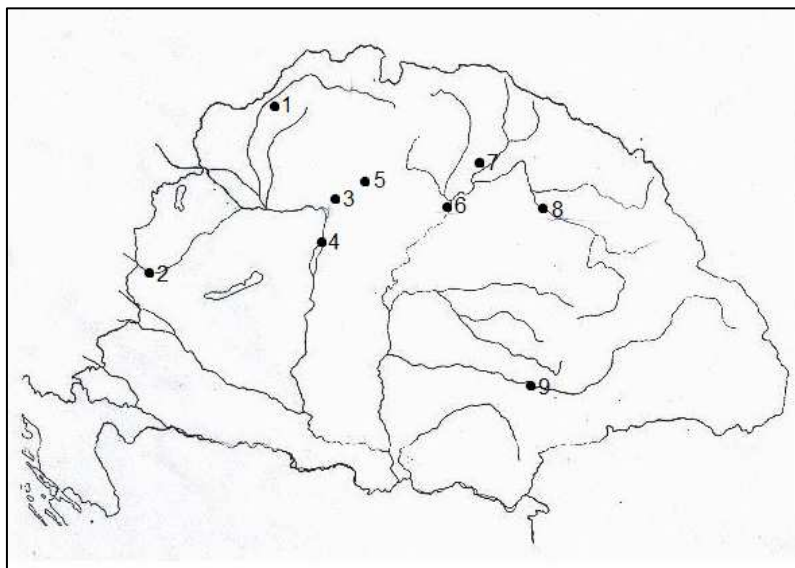
**c.)** Mi annak a gazdaságpolitikai irányzatnak a neve, mely Colbert nevéhez kapcsolható?

..... 

1 pont	
--------	--



9. A vaktérkép alapján és az atlasz segítségével töltsd ki a Rákóczi-szabadságharcra vonatkozó táblázatot! (Helyes soronként 1, összesen 4 pont)



Helyszín	Sorszám	Esemény
		Rákóczit vezérlő fejedelemmé választják
Ónod		
	1	
Szatmár		

4 pont

10. Az alábbi feladat az ipari forradalom időszakára vonatkozik. A forrás alapján válaszolj megadott a kérdésekre! (4 pont)

„A közhiedelemmel ellentétben ezen szerkezet feltalálása nem James Watt nevéhez fűződött, ugyanis előtte, 1698-ban már Thomas Savery, majd 1712-ben Thomas Newcomen is szabadalmat nyújtott be [...], melyet a korban főleg a bányavíz kiszivattyúzásánál hasznosítottak. Watt munkásságában éppen az bizonyult sorsdöntő momentumnak, amikor 1763-ban megszerezte Newcomen [...] egy meghibásodott példányát, melyet megjavított ugyan, ám az eredmény csalódással töltötte el: a szerkezet mindösszesen annyi energiát bírt termelni, amennyi a dugattyú működését rövid ideig biztosította. A fiatal tudós éppen ezért 1764-től a hatásfok növelésének problémájával kezdett foglalkozni [...] A Watt-féle masina kezdetben a bányatulajdonosok között hódított, a későbbi évtizedekben azonban különféle papír- és pamutmalmok, vízművek, csatornák és szeszfőzdék működtetéséhez is mind többet rendelték a Newcomen találmányánál ötször nagyobb teljesítményt nyújtó [...] gépből.”

/ Tarján Tamás: James Watt születése/

- a.) Milyen szerkezetéről szól a forrás?



1 pont

b.) Mi volt Watt szerepe a szerkezet átalakításában?

1 pont

c.) Mi volt a haszna Watt munkásságának az ipar szempontjából?

2 pont

**11. Az alábbi feladat az osztrák – magyar közjogi viszonyról foglalkozik az 1848-49-es szabadságharc idején. A források és saját ismereteid segítségével dönts el az állításokról, hogy igazak vagy hamisak! (5 pont)**

„3. § Ő Felsége, az Ő távollétében a nádor s királyi helytartó a végrehajtó hatalmat a törvények értelmében független magyar ministerium által gyakorolják, s bármely rendeleteik, parancsolataik, határozatok, kinevezései csak úgy érvényesek, ha a Buda-Pesten székelő ministerek egyike által is aláíratnak. [...]

6. § Mindazon tárgyakban, melyek eddig a magyar királyi udvari kancelláriának, a királyi helytartó tanácsnak, s a királyi kincstárnak, ide értvén a bányászatot is, köréhez tartoztak, vagy azokhoz tartozniok kellett volna, s általában minden polgári, egyházi, kincstári, katonai, és általában minden honvédelmi tárgyakban Ő Felsége a végrehajtó hatalmat ezentul kizárólag csak a magyar ministerium által fogja gyakorolni.”

/Részlet az 1848. évi áprilisi törvényekből/

Állítás	Igaz	Hamis
Magyarországon a végrehajtó hatalmat az áprilisi törvények szerint a király egyszemélyben gyakorolja.		
A király rendeletei és kinevezései csak akkor lesznek érvényesek, ha azt egy miniszter aláírásával ellenjegyzik.		
Csak az osztrák örökös tartományok rendelkeznek önálló kormánnyal.		
A hadügyek, a külügyek és a pénzügyek tekintetében egyik kormány sem tarthatja fenn saját tárcáit.		
Az áprilisi törvényeket Ferenc József az olmützi alkotmány kiadását követően semmisnek tekintette.		



A felén már túl is vagy, most következzenek az...

### Esszéfeladatok

Mielőtt neki kezdesz, figyelmesen tanulmányozd át a „játékszabályokat”:

- A feladatok megoldási sorrendje tetszőleges.
- A feladatok megoldásához a Történelmi atlasz és a Helyesírási kézikönyvtár használható
- A feladatok megoldását tollal készítsd. Ha valamilyen megoldást vagy megoldásrészletet áthúzol, akkor az nem értékelhető!
- Az egyes feladatokra az ott feltüntetett pontszámnál több nem kapható.
- Minden feladatot új A/4-es lapon kezdj!
- A megoldásokat tartalmazó lapok mellett ezt a fedlapot kell beadnod. Ügyelj arra, hogy mindegyik lapon jól olvashatóan rajta legyen a neved.

A következő feladatok közül összesen **hármát** kell kidolgoznod.

#### Az alábbi szabályok alapján kell esszéket választanod:

Kidolgozandó **egy, az egyetemes történelemre** vonatkozó rövidebb feladat, **kettő, a magyar történelemre** vonatkozó **egy rövidebb és egy hosszabb**, különböző korszakokra vonatkozó feladat.

Tanulmányozd figyelmesen a feladatokat, majd karikázd be az alábbi táblázatban a választott feladatok sorszámát!

	Korszakok, témák		Az esszé típusa	
			Rövid (12 pont)	Hosszú (21 pont)
Egyetemes történelem	1	A barokk stílus és az ellenreformáció	1.	
	2	Demográfia a középkorban	2.	
Magyar történelem	3	Társadalom a honfoglalás korában	3.	
	4	Károly Róbert gazdasági reformjai		4.
	5	Aranybulla	5.	
	6	Három részre szakadt Magyarország		6.
	7	II. József	7.	
	8	Széchenyi és Kossuth vitája		8.

**Ellenőrizd választásod helyességét, mert kizárólag a helyesen kiválasztott feladatok értékelhetőek! A kettősvonallal elválasztott egységekben csak egy jelölés szerepelhet.**

A „rövid” kifejtés kb. **10-12** soros, a hosszú pedig kb. **25-30** soros válaszokat igényel.

#### A válaszok elkészítése során fogalmazvány (piszkozat) készíthető!

**Segítségül megadjuk a helyesen kiválasztott esszék sorszámainak lehetséges kombinációit. Jelölj meg egy oszlopot az alábbi táblázatból! Karikázd be a választott oszlop betűjelét!**

Feladattípus	A	B	C	D	E	F	G	H	I	J	K	L
Rövid	1.	1.	1.	1.	1.	1.	2.	2.	2.	2.	2.	2.
Rövid	3.	3.	5.	5.	7.	7.	3.	3.	5.	5.	7.	7.
Hosszú	6.	8.	4.	8.	4.	6.	6.	8.	4.	8.	4.	6.

A választott esszék sorszáma:



Pontszám (tanár tölti ki)			
---------------------------	--	--	--

1. A források és saját ismereteid segítségével mutasd be, hogy a barokk stílus miért volt alkalmas eszköz a katolikus megújulás támogatására! Válaszodban említs fontosabb alkotásokat is! (12 pont)



Szent Jakab-katedrális  
Santiago de Compostela



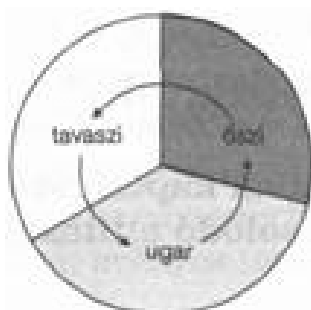
Barokk templombelső




El Greco: Angyali  
üdvözlés

„A barokkot még napjainkban is a reprezentáció és pompa művészetének tartják, amely a feudalizmus utolsó szakaszában, az abszolutizmus és ellenreformáció korában bontakozott ki és minden eszközával a maradi ideológia és korszerűtlen társadalom fennmaradását szolgálta. A mindenáron történő meggyőzés, széles gesztusok, színpadi hatás szorosan összefüggött az ellenreformáció céljaival és módszereivel. A stílus bonyolultsága, sodró lendülete, a szenvedélyes rábeszélés igénye és váratlan, meglepő hatásai jól szolgálták a feudális életforma fenntartását és a katolikus egyháztól elpártolt, református hívek visszahódítását. A festészet, szobrászat, berendező művészet, parktervezés, életvitel és a színház formálói szívesen bocsátották tehetségüket az építészek és gazdag főúri megbízóik szolgálatába.”  
/tankönyvi szöveg/

2. Mutasd be a források segítségével, hogy minek volt köszönhető a demográfiai robbanás a középkori Európában! (12 pont)



Háromnyomásos  
gazdálkodás



Szügyhám







"Azt akarjuk, hogy mindenki számára legyen ismert ez a szerződés, amelyet mi a Rajnán inneni emberekkel, akiket hollandoknak neveznek, kötöttünk. Ezek az emberek felkeresték felségünket, igen erősen kérve a püspökségünk területén fekvő eddig műveletlen, mocsaras, az ország lakói számára haszontalan földek átengedését, hogy azt termővé

tegyék. Híveink tanácsára úgy ítéltük, hogy ez hasznos lenne nekünk és utódainknak, ezért nem utasítottuk el kérelmüket, hanem beleegyezésünket adtuk”  
/XII. századi hamburgi szerződés/

**3. Az alábbi feladat a koraközépkori magyar történelemre vonatkozik. A források és saját ismereteid segítségével mutasd be a honfoglalás kori magyar társadalmat. (12 pont)**

„Taksony vezér Magyarország főembereivel együtt élete valamennyi napján át hatalommal és szépszerével megtartotta országának minden jussát. Kegyeségének hallatára pedig sok vendég özönlött hozzá különféle nemzetekből.”  
/Anonymus: Gesta Hungarorum/

„Az előkelők csoportjának neve ebben az időben "bő" volt, [...] a köznép tartotta el az előkelőket. [...] a különböző szolgáltató népek [...] foglalkozásuk alapján egy-egy faluközösséget alkottak. [...] Az elszegényedett rétegek fokozatosan függő viszonyba kerültek a vezérektől, közülük sokan jogi egyenlőségüket, szabadságukat elvesztve a szolgák csoportjába kerültek. Közéjük tartozhatott még a Kárpát-medence meghódított etnikumainak zöme, az avar és a szláv lakosság, illetve a kalandozások során ejtett foglyok; ők alkották az inséget.”  
/Enciklopedia Humana Hungarica: A magyar őstörténet és az államszervezés kora/

A magyar társadalom a 10. században		
fejedelem 	„urak” (gyula, harka, törzsfők) 	1
harcosok 	harcosok 	2
fejedelemi szolgáltató népek: szárművelő lovász háziak szőlőművelő mészművelő kovács dívás dó szűcs fűrészes székács	szabad köznép 	3
	(rabszolgák) 	4

A magyar társadalom a X. században

**4. Ismertesd Károly Róbert gazdasági reformjait illetve királyi bevételeit a források alapján Mennyiben változott a királyi bevételek összetétele az Árpád-házi királyokhoz képest ! (21 pont)**

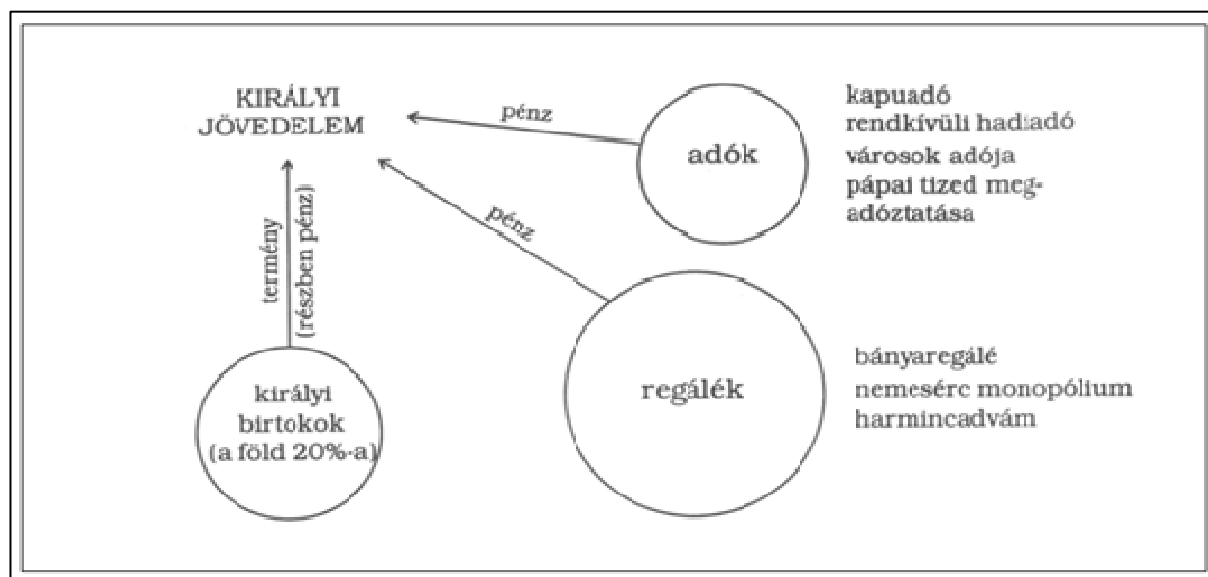


Károly Róbert aranyforintja

„Jóllehet országunk régi szokása kívánja meg, hogy mind az egyháznak, mind országunk bármely nemese birtokainak, amelyek területén arany- vagy ezüstmányát találnak, méltányos csere révén a király kezéhez kell jutniuk, mégis megfontolva lélekben, hogy a birtokok ilyenféle elvétele miatti félelemből az ország kincstára a földek mélyén elrejtve marad, mert nem akarják feltárni, kegyesen elrendeljük, hogy ha bárki

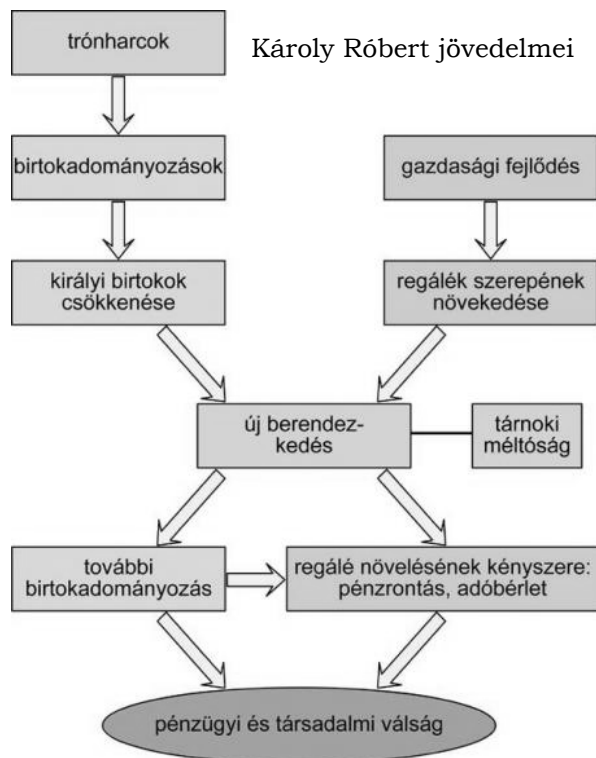


birtokán arany-, illetve ezüstbányát fognak találni, amennyiben nem tagadják meg a feltárásukat, akkor ugyanők örökre élvezzék földjeik birtoklását, sőt a talált bányákból származó királyi jövedelmek harmadrészét is kapják meg örökre.”



/Károly Róbert oklevele/

**5. Mutasd be a források és saját ismereteid segítségével az Aranybullát kikényszerítő társadalmi rétegeket és sérelmeiket. Hogyan orvosolta ezeket a sérelmeket az Aranybulla? (12 pont)**



„3. Úgyszintén semmiféle adót, sem szabad dénárokat nem fogunk szedetni a serviensek birtokai után, sem az ő házaikba nem szállunk, hacsak nem hívnak bennünket.”

„17. Azoktól a birtokoktól, melyeket valaki igaz szolgálattal szerzett, őt soha ne fosszák meg (...)”

„19. A várjobbágyokat a szent királytól rendelt szabadságban kell megtartani. Hasonlóképp a vendégeket is, bármely nemzetből valók, a kezdettől nekik engedett szabadságban kell megtartani.”

/II. András 1222-es aranypecsétetes okleveléből, az Aranybullából/



**6. A következő feladat Magyarország három részre szakadásával kapcsolatos. A források és saját tudásod alapján mutasd be, hogyan alakult a Szapolyai család és a Habsburg uralkodók viszonya a mohácsi csata után a XVI. században! (21 pont)**

„Szapolyai a II. Lajos (ur. 1516-1526) halálát eredményező mohácsi vereség utáni zűrzavarban lépett trónra, az országban dúló káosz pedig uralkodása alatt tovább fokozódott, hiszen élete végéig tartó konfliktusba keveredett riválisával, a Habsburg-házból származó Ferdinánd osztrák főherceggel (ur. 1527-1546).”

*/ Tarján M. Tamás: Szapolyai János koronázása/*

„A két király között Váradon folyó tárgyalások nyomán 1538. február 24-én született meg a megegyezés, amelyben azonban János király nem Ferdinánddal, hanem V. Károly császárral kötött békét. A szerződés arra az alapelvre épült, hogy a Magyar Királyság egy ország marad, csak átmenetileg kerül két király uralma alá...”

*/ Oborni Teréz: Habsburg Ferdinánd harca a magyar trónért/*

„Könyörgöm tehát Felségednek, hogy az Isteni irgalomra, az egész kereszténység üdvére, [...] ne töltsd azt, hogy az országot, amelyet elődeink vérük hullásával őriztek meg, s amelyről mindenki úgy vélekedett, hogy az egész kereszténység védőbástyája, a keresztények legnagyobb kárára, a leggaládabb ellenség kezébe kaparintsa; most ugyanis olyan alkalom kínálkozik Felségetek számára az ország megvédésére, amelynél sem nagyobb, sem hasznosabb nem is lehet...”

*/ Fráter György levele I. Ferdinándhoz - 1543/*

„A gyalui egyezmény azonban - a váradi békéhez hasonlóan - sohasem realizálódott. Miután a királyi-birodalmi csapatok többször is kudarcot vallottak az oszmánokkal szemben, 1542 decemberében a Tordán összegyűjt erdélyi rendek érvénytelenítették a gyalui megállapodást, és az évi tízezer forintos adó megfizetésével inkább behódoltak a Portának.”

*/ National Geographic: A gyalui egyezmény megkötése/*

**7. Mutasd be a források és saját ismereteid alapján II. József intézkedéseit és annak hatásait. Térj ki a felvilágosult abszolutizmus fogalmára is! (12 pont)**

„Ebben az országban egy akarát a legfőbb törvény, nincsenek tanács- és rendi gyűlések, sem hatóságok, amelyek a kormányt hasznos tanácsokkal látnák el.”

*/ A bécsi francia követ jelentéséből, 1786/*

„A jobbágyság állapotját annyiban, a mennyiben a parasztok ennél fogva eddig elé örökös kötelesség alá vettette és a földhöz köttetve voltak, jövőre teljességgel eltöröljük és azt akarjuk, hogy ebben az értelemben a jobbágy nevezettel tovább ne éljenek. [...]”

*/ II. József jobbágyparagrafja, 1785/*

„ Minden olyan nyilvános vallásgyakorlattal nem bíró helyen, ahol van száz nem katolikus család, s ezeknek van elegendő, törvényes úton biztosított fedezetük



imaházak [...] építésére, s ahol a lelkészek és tanítók megfelelő állásáról gondoskodni képesek, anélkül, hogy a szolgáltató népet ezekkel a hozzájárulásokkal túlságosan megterhelnék, [...], legyen szabad ugyanazon nem katolikus, vagyis az ágostai és helvét hitvallásúaknak, avagy a görög szertartású nem egyesülteknek magánimaházat oly módon felépíteni, hogy ezeknek se tornyuk, se harangjuk [...] ne legyen.”

/ II. József türelmi rendelete/

**8. A feladat a magyar reformkori politikához kapcsolódik. A megadott források és saját ismereted alapján mutasd be Széchenyi és Kossuth politikai törekvéseit! Milyen programjaik voltak a polgári átalakulás érdekében! Elemzésedben használd fel: Milyen gyakorlati tevékenységeket hajtottak végre! (21 pont)**

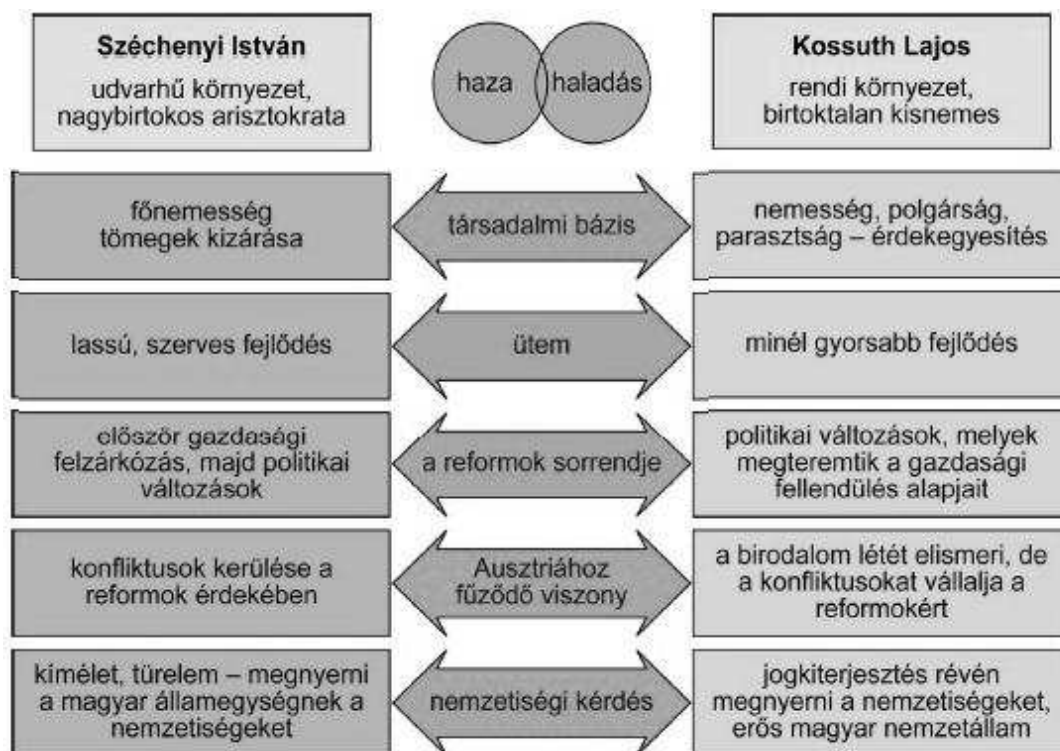
„Nevetséges vagy inkább szomorú dolognak kell e mondani, ha valaki nagy számú gulyája és telt gabonavermei mellett is koplal, vagy szinte éhen hal? Nevetséges vagy szomorú e, ha egy nagybirtokos, kinek kiterjedt termékeny szántóföldei, rétjei, erdei, szőlei stb. vannak, nem adózik, és az országnak szinte semmi terhet nem viseli, és kinek sok ingyen dolgozik – ha ily birtokos mondom annyira elszegényül, hogy véges adósságai miatt semminél kevesebbje marad? Már ez miért van így – és ennek úgy kell e lennie, vagy talán nem kellene; ... Ha egynek pénzre van szüksége, minden jószági mellett is ugyan kaphat-e törvényes kamatra elegendőt könnyen és tüstént? ... Hitel híja miatt csak felette nagy uzsorával kaphatott. Hány birtokost ismerek magam, ki mindig pénzben szűkölködik, és kinek kincse maga előtt mindig el van zárva?”

/ Széchenyi István: Hitel/

„Alkottassék törvény, mely a földesurat kötelezze, hogyha jobbagya magát örökösön megváltani akarja, azt ellenezni ne legyen hatalmában, kérdem, van-e ember széles e hazában, aki higgye ily törvény mellett is, az úrbéri viszonyokból hazánk egy század alatt tökéletesen kibontakozzék. Aki ezt hinné, arról bátran el merem mondani, hogy áldott térmезőn fekvő faluját talán, de az országot, az ország népét, a nép állapotát nem ismeri [...] Azt hisszük: megmentjük a hazát toldozó, foldozó reformkáinkkal? Azt hisszük, biztosíthatjuk nemzetünk jövőjét, ha a jövő épületének alaprakását elmulasztottuk? És mi lehet ezen alap más, mint a néppeli egy testté forrás, s ekként egy ép, egészséges nemzeti test előteremtése, erről pedig miként lehet csak álmodnunk is, míg az úrbéri viszonyoknak gyűlölség-nemző válaszfala fennáll [...]”

/ Kossuth Lajos Pesti Hírlap belső cikke/





Széchenyi és Kossuth ellentéte