

ÉRETTSÉGI VIZSGA • 2011. május 23.

BELÜGYI RENDÉSZETI ISMERETEK

KÖZÉPSZINTŰ ÍRÁSBELI VIZSGA

2011. május 23. 14:00

Az írásbeli vizsga időtartama: 120 perc

Pótlapok száma	
Tisztázati	
Piszkozati	

NEMZETI ERŐFORRÁS MINISZTERIUM

Fontos tudnivalók

Válaszai legyenek lényegre törők, ne lépje túl a rendelkezésére álló helyet!

Törekedjék egyértelműsége mind a válaszok, mind a javítások esetében!

Kérjük, kék színű tollat használjon!

A feladatok megoldásakor tartsa szem előtt az alábbi javaslatokat:

- Olvassa el figyelmesen a feladatokat!
- Kövesse pontosan az utasításokat!
- Válaszait alapos mérlegelés után, lehetőleg javítás nélkül írja le! Ha mégis javítani szándékozik, kérjük a rossz megoldást egy vonallal húzza át, és írja be a jó választ! A nem egyértelmű javításokat nem fogadjuk el!

A szöveges, kifejtendő feladatok kidolgozásakor javasoljuk, hogy a megadott szempontok sorrendjében fogalmazza meg a választ. Ügyeljen a szakkifejezések használatára, fogalmazzon szabatosan, nyelvtanilag helyesen, figyeljen a helyesírásra is!

A szöveges kifejtendő feladatok javításakor figyelembe vesszük:

- a feladat megértését, a helyes feladatmegoldást,
- a szaknyelv alkalmazását,
- a logikus felépítést,
- a megszerkesztettséget, nyelvhelyességet.

Eredményes munkát kívánunk!

I. EGYSZERŰ, RÖVID VÁLASZT IGÉNYLŐ FELADATOK**1. Válassza ki, és karikázással jelölje a kérdésekre vonatkozó helyes válaszok betűjelét!***Minden kérdésnél két jó válaszelem van!***A.** Melyek vonatkoznak a közrend fogalmára az alábbi állítások közül?

- 1) Az ország területének és lakosságának külső és belső veszélyektől, fenyegetéstől mentes állapota.
- 2) A közrend fogalma azonos a belső rend fogalmával.
- 3) A közrend akkor biztosított, ha az állam és a társadalom szervezetei, intézményei a jogszabályok alapján rendben, zavartalanul működnek.
- 4) A közrend nemzetközi szerződésekben meghatározott és belső jogszabályokban is rögzített jogi norma- és viszonyrendszer.

B. Mely állítások igazak a társadalmi rend, a jogi rend és a közrend viszonyát illetően?

- 1) A közrend magában foglalja a társadalmi és a jogi rend fogalmát is.
- 2) A társadalmi rend fogalmába beletartozik a jogi rend és a közrend fogalma is.
- 3) A jogi rend alatt a társadalmi és a közrend fogalmát együttesen értjük.
- 4) A közrend beletartozik a társadalmi rend és a jogi rend fogalmába is.

C. Mely állítások vonatkoznak a közbiztonság fogalmára?

- 1) Fenntartása alapvetően az állam feladata.
- 2) Fenntartása a rendészeti szervek rendszerén belül a Rendőrségre hárul.
- 3) A közbiztonság nem más, mint az állampolgárok személyének és jogainak külső és belső veszélyektől, fenyegetéstől mentes állapota.
- 4) A közbiztonság nem más, mint a társadalom tagjai személy- és vagyonbiztonságának állam általi garantálása és megvalósulása.

6 pont	
--------	--

2. Válassza ki és karikázza be a helyes válasz sorszámát az alábbi kérdések esetében!*Minden kérdésnél csak egy jó válasz lehetséges!***A.** Melyik nem a Rendőrség feladata az alábbiak közül?

- 1) A Rendőrség bűnmegelőzési és bűnüldözési, valamint közigazgatási és rendészeti feladatokat is ellát.
- 2) A Rendőrség bűnmegelőzési és bűnüldözési, valamint közigazgatási és katasztrófavédelmi feladatokat is ellát.
- 3) A Rendőrség feladata az emberi méltóság és az emberi jogok tiszteletben tartása és védelme is.

B. A katasztrófavédelem szervezetén belül melyik szakmai tevékenységi területhez kapcsolódnak műszaki mentési feladatok?

- 1) tűzvédelem
- 2) polgári védelem
- 3) katasztrófavédelem

C. Milyen szintű jogszabály határozza meg a belügyi rendészeti szervek jogállását és feladatait?

- 1) törvény
- 2) kormányrendelet
- 3) miniszteri rendelet

D. Az alábbi szervezetek közül melyiknek nincs nyomozóhatósági jogköre?

- 1) Budapesti Rendőr-főkapitányság
- 2) Nemzeti Adó- és Vámhivatal
- 3) Katasztrófavédelmi Főigazgatóság

4 pont	
--------	--

3. Válassza ki, hogy a felsoroltak közül melyek tartoznak a szolgálati tagozódás elemei, és melyek a szolgálati formák közé! Írja a megfelelő sorszámot a táblázat megfelelő oszlopába a kipontozott helyre!

1. terrorelhárító; 2. ügyeleti és védelmi igazgatási; 3. körzeti megbízotti;
4. járőr; 5. rendőri csapaterő; 6. őr

Szolgálati tagozódás elemei	Szolgálati formák
.....

6 pont	
--------	--

4. Tanulmányozza figyelmesen a képeket, és válaszoljon az azokkal kapcsolatban feltett kérdésekre! A helyes válasz betűjelét karikázással jelölje!

A. A Tűzoltóság eszközei közül mely csoportba sorolható a képen bal oldalt látható tűzoltó ruházata?




- 1) Technikai eszközök – vegyi és sugárvédelmi eszközök – egész testet védő saválló ruházat.
- 2) Technikai eszközök – védőeszközök – egész testet védő saválló ruházat.
- 3) Műszaki technikai berendezések – vegyi és sugárvédelmi eszközök – egész testet védő védőruházat.
- 4) Műszaki technikai berendezések – védőeszközök – egész testet védő védőruházat.

B. A rendészeti szervek erőinek mely csoportjába tartoznak a képen szolgálat közben látható polgárőrök?

- 1) Szervezetszerű erők – közalkalmazottak.
- 2) Szervezetszerű erők – köztisztviselők.
- 3) Bevonható erők – civil szervezet.



C. A Rendőrség eszközeinek mely csoportjába sorolható a képen látható tárgy?



- 1) Technikai eszközök – rendészettechnikai és kényszerítő eszközök – tűskés útzár.
- 2) Műszaki technikai berendezések – rendészettechnikai és kényszerítő eszközök – tűskés útzár.
- 3) Technikai eszközök – általános és hadiműszaki eszközök – tűskés útzár.

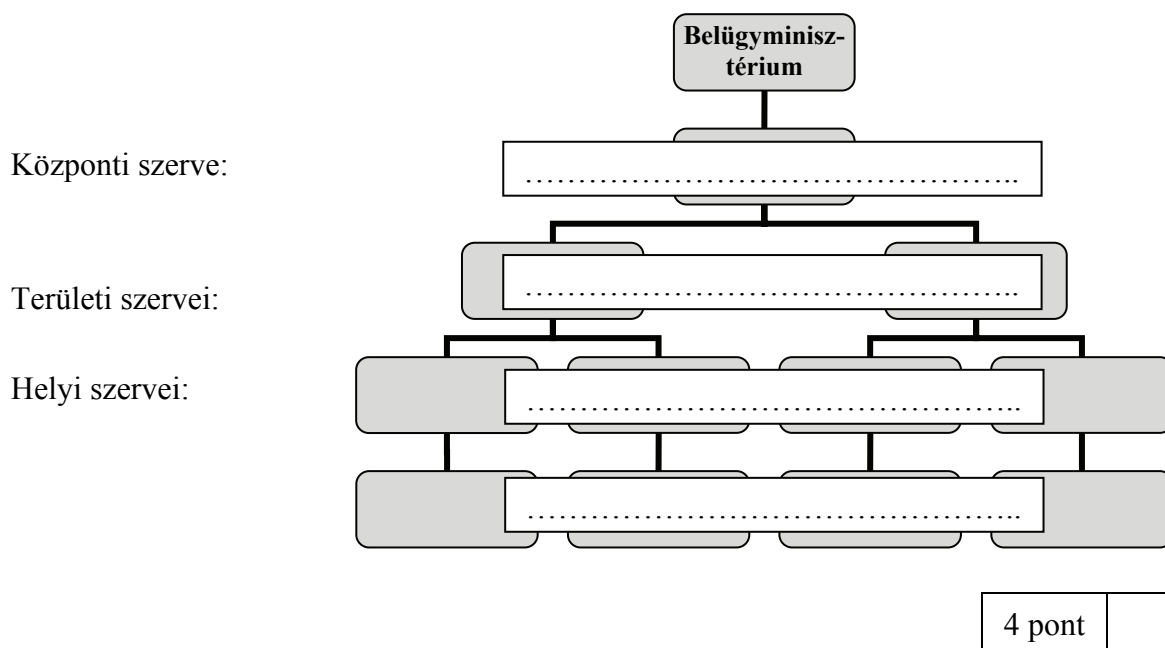
D. A Rendőrség szervezetszerű erőinek mely állománycsoportjába tartozik a képen látható két férfi?



- 1) kormánytisztviselő
- 2) köztisztviselő
- 3) hivatásos

4 pont	
--------	--

5. Az alábbi szervezeti diagram a Rendőrség szervezeti felépítésének főbb elemeit szemlélteti. Írja be a kipontozott helyekre az adott szintnek megfelelő szervek megnevezését!



6. Végezze el a feladatot, majd válaszoljon röviden a kérdésekre!

A. Sorszámozza be a tájolás lépéseit 1-től 4-ig, a sorszámokat írja a kipontozott helyekre!

A térkép tájolásakor az alábbiak szerint kell eljárni:

- A térképet a tájolóval együtt addig forgatjuk, amíg a térképi északi irány egybeesik az iránytű és a tájoló által jelzett északi iránnyal.
- A tájolás helyességét ellenőrizhetjük a térképen jelzett, és a terepen megtalálható azonosítható tereptárgyak segítségével.
- Ellenőrizzük a tájoló működőképességét, majd a szelencén az északi irány jelzését beforgatjuk az irányzó tűske alá.
- A térképet magunk elé tesszük, és a tájoló irányzó élét ráhelyezzük a térkép észak-déli keretvonalára úgy, hogy a tájoló által jelzett északi irány megegyezzen a térkép északi irányával.

B. Mi zavarhatja meg az iránytű működését, amit a tájolás során figyelembe kell venni?

.....

C. Mi az a térképen jelzett érték, amit a helyes tájolás során figyelembe kell venni?

.....

6 pont	
--------	--

7. A képen ujjnyom-rögzítéshez használatos eszközök láthatók. Válaszoljon röviden a használatukkal kapcsolatban feltett kérdésekre!



A. Az ujjnyom-rögzítés mely eljárásához használatosak a képen látható eszközök?

.....

B. Milyen módon kell még kötelezően rögzíteni a feltalált nyomokat a helyszínen? Írjon két példát!

-

-

C. Mire szolgálnak a felső sorban látható különböző színű, anyagú és szemcseméretű porok?

.....

4 pont	
--------	--

8. Olvassa el a meghatározást, és írja be a kipontozott helyre a hiányzó válaszelemet!

Ügyeljen a nyelvhelyességre, minden jó válaszelem 1 pontot ér!

1. A(z) intézkedés célja az intézkedés alá vont személy személyazonosságának megállapítása.
2. kell alkalmazni a szándékos bűncselekmény elkövetésén tettenért személlyel szemben.
3. kell alkalmazni azzal a személlyel szemben, akit a rendőr elfogott.
4. A rendészeti szervek hivatásos állományú tagja akkor van intézkedésre alkalmas állapotban, ha a feladatra kiképzett, egészséges, és nem áll, vagy intézkedési képességre hátrányosan ható szer alatt.
5. A lőfegyverhasználatot meg kell előznie a fegyverhasználatra vonatkozó, más személy segítségül hívásának,
6. Az előállítás időtartama legfeljebb 8 óra lehet, ami indokolt esetben további órával meghosszabbítható.

7. A(z) csak a felsőruházatra terjedhet ki, és lehetőség szerint az intézkedés alá vonttal azonos nemű rendőr végezheti.
8. A(z) az egyetlen kényszerítő eszköz, melyet az intézkedő rendőr saját kezdeményezésére nem alkalmazhat.

10 pont

- 9. Tanulmányozza figyelmesen a meghatározásokat, és a helyes számot írja a táblázat alatti sorba a megfelelő betűjelzés mellé annak megfelelően, hogy az melyik fogalomra vonatkozik! Egyet könnyítésként megadtunk.**

Fogalom		Meghatározás	
A	Terhelt	1.	A büntetőeljárás ezen alapvető rendelkezése szerint senki nem tekinthető bűnösnek mindaddig, míg büntetőjogi felelősségét a bíróság jogerős ítéletével meg nem állapította.
B	Védő	2.	Így nevezzük a büntetőeljárásban azt, akinek jogát vagy jogos érdekét a bűncselekmény sérti vagy veszélyezteti.
C	Ártatlanság védelme	3.	A büntetőeljárás mellékszemélye. Akkor kell alkalmazni, ha a bizonyítandó tény megállapításához különleges szakértelem szükséges.
D	Szakértő	4.	Ez az eljárási cselekmény a kihallgatás egyik formája, mely a valóságok között mutatkozó lényeges ellentmondások tisztázására szolgál.
E	Sértett	5.	Feladata a nyomozások törvényességi felügyelete, törvényben meghatározott esetekben a nyomozás teljesítése, és közvádas ügyekben a vád képviselője.
F	Szemle	6.	Alkalmazására a büntetőeljárás során kirendelésre vagy meghatalmazás útján kerül sor. Részvétele az eljárásban kötelező akkor, ha például a terheltet fogvatartják.
G	Őrizetbevétel	7.	A büntetőeljárás során alkalmazható kényszerintézkedés, melynek időtartama legfeljebb 72 óra lehet, elrendelésére akkor kerülhet sor, ha az előzetes letartóztatás feltételei fennállnak.
H	Szembesítés	8.	A büntetőeljárás egyik főszemélye, akit a nyomozási szakaszban gyanúsítottak, a bírósági szakaszban vádlottak, a büntetés-végrehajtási szakaszban elítéltek nevezünk.
I	Ügyész	9.	Ezt az eljárási cselekményt kell alkalmazni a büntetőeljárás során akkor, ha helyszín, személy vagy tárgy közvetlen megtekintése vagy megfigyelése szükséges.
J	Képviselő	10.	A büntetőeljárás alapvető rendelkezései szerint a vád, a védelem és az ítélkezés egymástól elkülönül.
K	Eljárási feladatok megoszlása	11.	A sértett érdekében eljáró személy, aki lehet a törvényes képviselője vagy nagykorú hozzátartozója.

A – 8; B -; C -; D -; E -; F -; G -; H -; I -; J -; K -

10 pont

10. Olvassa el figyelmesen a kérdéseket, és húzza alá a helyes válaszleletet!

A. Melyik a rendészeti szervek hivatásos állományú tagjainak járó alapilletmény egyik összetevője az alábbiak közül?

illetményalap / nem rendszeres illetménypótlékok / beosztási illetmény

B. Milyen esetben nem illeti meg rendkívüli szabadság a hivatásos állomány tagját?

házasságkötés / közeli hozzátartozó halála / gyermekszületés

C. Melyik nem tiszti rendfokozat az alábbiak közül?

hadnagy / őrnagy / százados

D. Melyik a rendészeti szervek hivatásos állományú tagjára kiszabható legsúlyosabb fegyelmi büntetés?

fizetési fokozatban visszavetés / lefokozás / szolgálati viszony megszüntetése

E. Milyen eljárás során kell elbírálni a hivatásos állomány tagjának szolgálati időben megvalósított szabálysértését?

szabálysértési eljárásban / büntetőeljárásban / fegyelmi eljárásban

F. A Rendészeti szervek tagjait ért szolgálati balesetről milyen dokumentumot kell készíteni?

hivatalos feljegyzést / baleseti látleletet / baleseti jegyzőkönyvet

6 pont	
--------	--

II. SZÖVEGES, KIFEJTENDŐ FELADATOK

11. Milyen feladatokat kell végrehajtania a Rendőrségnek és a vele együttműködő szervezeteknek egy eltűnt személy felkutatása során?

Olvassa el az alábbi eseteleírást, tanulmányozza a térképet a hozzá tartozó jelmagyarázattal együtt! Válaszában térjen ki az alábbi szempontokra:

- Milyen teendői vannak a rendőri szerveknek az eltűnt személyek felkutatása során?
- Milyen típusú eljárást kell megindítani, ennek keretében milyen eljárási cselekményekre kerülhet sor?
- Milyen erők és eszközök vesznek részt a feladatok végrehajtásában, ezek milyen állománycsoportokhoz tartoznak?
- Az egyes állománycsoportoknak milyen speciális feladatai vannak a tevékenység során?
- A terepen történő tájékozódás során milyen jellemzőket kell figyelembe vennie a tevékenységet irányító parancsnoknak?
- Jellemezze, hogy a terepkutatás során milyen nehézségekkel kell számolnia a kutatást irányító parancsnokoknak, illetve az abban résztvevőknek a mellékelt térkép alapján!

Elérhető 20 pont

Lakásáról ismeretlen helyre távozott A. Béla 70 éves férfi. Eltűnését fia jelentette be, aki elmondta, hogy édesapját utoljára az eltűnését megelőző napon este 19 óra 18 perckor látta, amikor vacsorát vitt neki. Ekkor édesapja beszélgetésük során olyan kijelentést tett, hogy már nem kell sokáig gondoskodnia róla.

Mivel korábban is tett ilyen kijelentéseket, ezért a mai napon délelőtt 9 óra 30 perc körül újra felkereste, de ekkor már lakásában nem találta. Az épület be volt zárva, a házba saját kulcsával jutott be. A. Béla fia elmondása szerint nem bírja túltenni magát felsége két évvel korábbi elvesztésén, ezért feltehető, hogy öngyilkossági szándékkal távozott el otthonról.

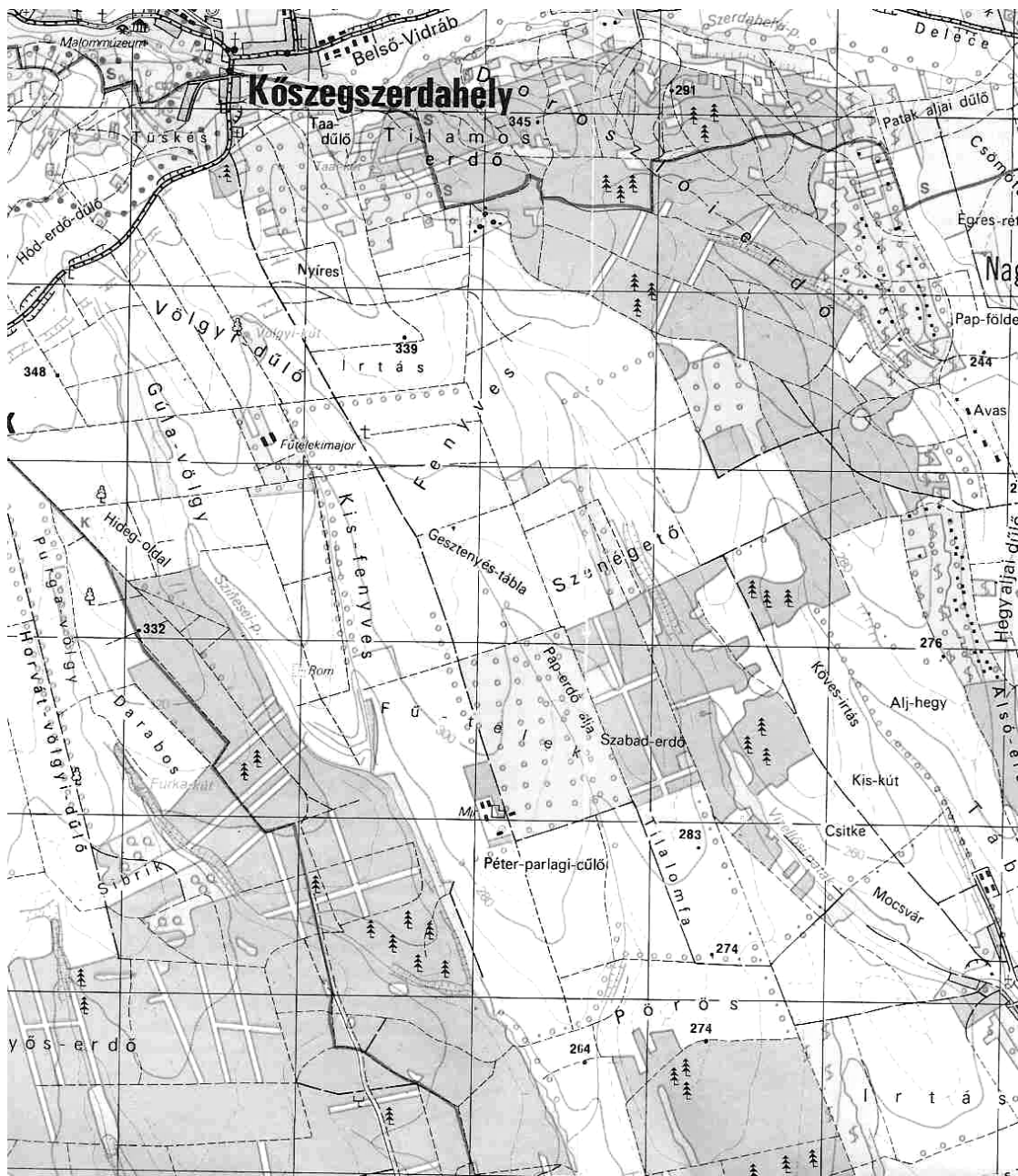
Fia szerint édesapja jó egészségi és erőállapotban volt, eltűnésekor a szokásos otthoni sötétkék színű munkásruháját és a hozzá tartozó kabátot viselte, fekete színű ellenzős sapkával, melyen nagyméretű piros színű „Y” betű volt.

Nevezett 170-175 cm magas, átlagos testalkatú, borotvált arcú férfi. Fogazata hiányos, műfogsort viselt. Különös ismertető jegye, hogy bal lábára enyhén bicegve jár, és korábban orra eltört. Utolsó fényképe beszerzésre került.


A bejelentést követő adatgyűjtés során megállapítást nyert, hogy az eltűnt személyt a Kőszegszerdahelyről dél, dél-keleti irányba a Gesztenyész táblya, illetve a Szénégető felé vezető talajúton látták.


Az eltűnt személy felkutatását a megyei rendőr-főkapitányság állománya a városi rendőrkapitányság vezetőjének irányításával nagy erővel kezdte meg. A Béla lakásán szemle lefolytatására, majd nyomkövető kutya indítására került sor, mely a jelzett talajúton a Fűtelek-majortól keletre található magányos kereszt közelében nyomot vett. A nyomok irányából a kutatást irányító parancsnokok arra következtettek, hogy az eltűnt személy az ún. Szénégető felé vette az irányt, mely horhosszal átszeggelt, erdővel borított területen fekszik.


Az eltűnt személy felkutatásába bekapcsolódott a helyi polgárőr egyesület, valamint a katasztrófavédelem állománya és a speciális mentők is. A terület átkutatása 15 óra 30 perckor indult meg. Ekkor már a rendőrség hőkamerával és éjjellátó készülékkel felszerelt helikoptere is a terület fölött tartózkodott. A kutatást megkönnyítette, hogy arra derült, száraz időben került sor.





FONTOSABB JELEK · ZEICHENERKLÄRUNG


 Autóbuszvonal megállóval; helyi járat
Autobuslinie mit Haltestelle; Lokalbus


 Közút
Verkehrsstrasse


 Lezárt erdőgazdasági út; javított-talajút
Gesperrte waldwirtschaftliche Strasse; verbesserter Feldweg


 Földút; szekérút; turistaút; ösvény; kerékpárút
Feldweg; Fuhrweg; markierter Wanderweg; Steig; Radfahrweg


 Szálloda, fogadó, panzió; turistaház; kemping; sátorozóhely
Hotel, Gasthaus, Pension; Touristenherberge; Camping; Zeltplatz


 Esőház; erdei pihenőhely; emlékmű; eligazító tábla
Hütte gegen Regen; Waldraststätte; Denkmal; Informationstafel


 Kilátó; toronyszerű építmény; magasles; vadetető
Aussichtsturm, turmartiges Bauobjekt; Hochstand; Futterhäuschen


 Benzintöltő állomás; gépkocsiszerviz; parkolóhely
Tankstelle; Autoservice; Parkplatz


 Étterem, vendéglő; bisztró, büfé; eszpresszó, cukrászda
Restaurant; Gaststätte; Büffet; Espresso, Konditorei


 Múzeum; kastély; vár; jelentősebb rom
Museum; Schloss; Burg; sonstige bedeutende Ruine

 Templom; kápolna; kereszt; képoszlop
Kirche; Kapelle; Marterl; Grab

 Barlang
Grotte

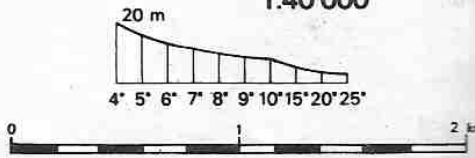
 Kerítés; sífelvonó
Zaun; Skilift

 Jól tájékoztató villanyvezeték
Gut orientierende elektrische Leitung

 Tájvédelmi körzet határa
Landschaftsschutzgebietgrenze

K = kék · blau · blue · modrý · bleitny
P = piros · rot · red · červený · czerwony
S = sárga · gelb · yellow · žlutý · żółty
Z = zöld · grün · green · zelený · zielony

1:40 000



.....

.....

.....

.....

.....

.....

.....

.....

.....

.....

.....

.....

	Pontszám	
	Elérhető	Elért
feladatmegértés, helyes feladatmegoldás	10	
szaknyelv alkalmazása	4	
logikus felépítés	4	
megszerkesztettség, nyelvhelyesség	2	
11. feladat pontszáma összesen:	20	

12. Milyen jogsértések történtek az alábbi jogeset kapcsán? Állapítsa meg a források felhasználásával, hogy a történeti tényállásban szereplő személyek milyen jogellenes cselekményeket követtek el!

Válaszát indokolja, melynek során térjen ki az alábbi szempontokra:

- Milyen, és hány rendbeli jogellenes cselekmény valósult meg, és azoknak kik az elkövetői?
- Az elkövetők milyen elkövetői minőségben vettek részt a cselekmények megvalósításában?
- Milyen büntethetőségi akadály áll fenn, milyen cselekmény miatt és kivel szemben?
- Milyen jogkövetkezményre számíthatnak az elkövetők a források alapján?
- A válasz során jelölje meg a forrásokban leírt jogellenes cselekmények azon elemeit, melyek a minősítését befolyásolták!
- Milyen személyes szabadságot korlátozó rendőri intézkedések alkalmazására kerülhet sor az elkövetőkkel szemben!

Elérhető 20 pont

A 20 éves R. Krisztián, a 16 éves S. Sándor és a 19 éves K. Viktor Budapest egyik forgalmas belvárosi szórakozóhelyén töltötték az estét. Az elfogyasztott sör miatt 23 óra körüli időben már ittas állapotba kerültek, és arról beszéltek, hogy jó lenne valami kis „balhét” csinálni.

A mellettük lévő asztalnál két fiatal, J. Zoltán, valamint O. Tibor tartózkodott. A két társaság nem ismerte egymást. Amikor O. Tibor elindult az illemhely irányába S. Sándor és K. Viktor utána indultak. A WC-ben – ahol ekkor többen tartózkodtak – a két fiatal kötözködni kezdett O. Tiborral. K. Viktor arra biztatta O. Tibort, hogy mutassa meg milyen bátor, és üsse meg őket, de O. Tibor erre nem volt hajlandó. Ekkor K. Viktor közölte társával, hogy visszamegy az asztalukhoz, ha végezt jöjjön utána. Társa távozását követően S. Sándor egy alkalommal pofon ütötte O. Tibort, aki ennek következtében 8 napon belül gyógyuló könnyű sérülést szenvedett, majd társa után indult.

Eközben R. Krisztián szintén kötözködni kezdett az asztalnál egyedül ülő J. Zoltánnal. Mivel J. Zoltán a provokációra nem reagált, hozzálépett, és több alkalommal úgy tett, mintha megakarná ütni. Magatartása a körülöttük lévőkben megbotránkozást keltett. A rendőrséget a felszolgáló értesítette, a kiérkező járőrök a három személyt előállították a kerületi rendőrkapitányságra. O. Tibor magánindítványt nem terjesztett elő könnyű testi sértés miatt.

Garázdaság

Btk. 271. § (1) Aki olyan kihívóan közösséggellenes, erőszakos magatartást tanúsít, amely alkalmas arra, hogy másokban megbotránkozást vagy riadalmat keltsen, ha súlyosabb bűncselekmény nem valósul meg, vétséget követ el és két évig terjedő szabadságvesztéssel, közérdekű munkával vagy pénzbüntetéssel büntetendő.

(2) A büntetés büntett miatt három évig terjedő szabadságvesztés, ha a garázdaságot

a) csoportosan,

b) a köznyugalmat súlyosan megzavarva követik el.

(3) A büntetés büntett miatt egy évtől öt évig terjedő szabadságvesztés, ha a garázdaságot

a) csoportosan és a köznyugalmat súlyosan megzavarva,

b) nyilvános rendezvényen,

c) fegyveresen,

d) felfegyverkezve

követik el.

(4) Mellékbüntetésként kitiltásnak is helye van.

(5) E § alkalmazásában erőszakos magatartásnak minősül a más személyre gyakorolt támadó jellegű fizikai ráhatás is, abban az esetben is, ha az nem alkalmas testi sérülés okozására.

Rendzavarás

Sztv. 142. § (1) Aki

a) verekszik, továbbá aki mást verekedésre felhív,

b) rendzavarás vagy garázdaság esetén a hatóság vagy az eljáró hivatalos személy intézkedésével szemben engedetlenséget tanúsít, elzárással vagy százötvenezer forintig terjedő pénzbírsággal sújtható.

(2) Aki nyilvános rendezvényen

a) löfegyvert vagy robbanóanyagot, illetőleg az élet kioltására vagy testi sértés okozására alkalmas eszközt tartva magánál jelenik meg,

b) a rendező szerv, illetőleg a rendőrség biztonságra vonatkozó felhívásának, rendelkezésének nem tesz eleget, ötvenezer forintig terjedő pénzbírsággal sújtható.

(3) Az (1)-(2) bekezdésben meghatározott szabálysértés elkövetőjével szemben kitiltásnak is helye van.

(4) Az (1) bekezdésben meghatározott szabálysértés miatt az eljárás a bíróság, a (2) bekezdésben meghatározott szabálysértés miatt a rendőrség hatáskörébe tartozik.

(5) E § alkalmazásában nyilvános rendezvény: a gyülekezési jogról szóló törvény hatálya alá tartozó rendezvény, továbbá az olyan rendezvény, amely mindenki számára azonos feltételek mellett nyitva áll.

Garázdaság

Sztv. 142/A. § (1) Aki olyan kihívóan közösségellenes magatartást tanúsít, amely alkalmas arra, hogy másokban megbotránkozást vagy riadalmat keltsen, elzárással vagy százötvenezer forintig terjedő pénzbírsággal sújtható.

(2) Az (1) bekezdésben meghatározott szabálysértés elkövetőjével szemben kitiltásnak is helye van.

(3) Az (1) bekezdésben meghatározott szabálysértés miatt az eljárás a bíróság hatáskörébe tartozik.

.....

.....

.....

.....

.....

.....

.....

.....

.....

.....

This image shows a full page of white paper with horizontal dotted lines, typical of primary school writing paper. The lines are evenly spaced and run across the width of the page. There are no margins, text, or other markings on the paper.

This image shows a full page of primary-ruled paper. It features multiple sets of horizontal lines designed for handwriting practice. Each set consists of a solid top line and two dashed midlines, creating a guide for letter height and placement. The entire page is white with no text or other markings.

	Pontszám	
	Elérhető	Elért
feladatmegértés, helyes feladatmegoldás	10	
szaknyelv alkalmazása	4	
logikus felépítés	4	
megszerkesztettség, nyelvhelyesség	2	
12. feladat pontszáma összesen:	20	

	maximális pontszám	elért pontszám
I. Egyszerű, rövid választ igénylő feladatok		
1. feladat	6	
2. feladat	4	
3. feladat	6	
4. feladat	4	
5. feladat	4	
6. feladat	6	
7. feladat	4	
8. feladat	10	
9. feladat	10	
10. feladat	6	
I. Egyszerű, rövid választ igénylő feladatok összesen	60	
II. Szöveges, kifejtendő feladatok		
11. feladat	20	
12. feladat	20	
II. Szöveges, kifejtendő feladatok összesen	40	
Az írásbeli vizsgarész pontszáma	100	

javító tanár

Dátum:

	elért egészre kerekített pontszám	programba beírt egész pontszám
I. Egyszerű, rövid választ igénylő feladatok		
II. Szöveges, kifejtendő feladatok		

javító tanár

jegyző

Dátum:

Dátum: